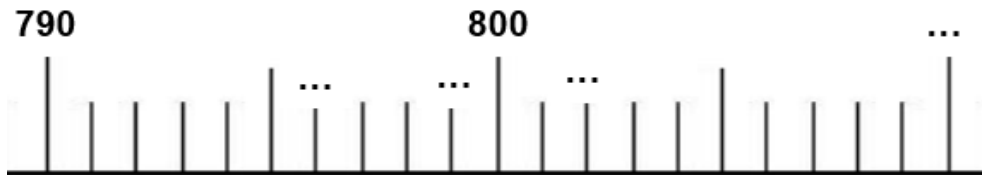
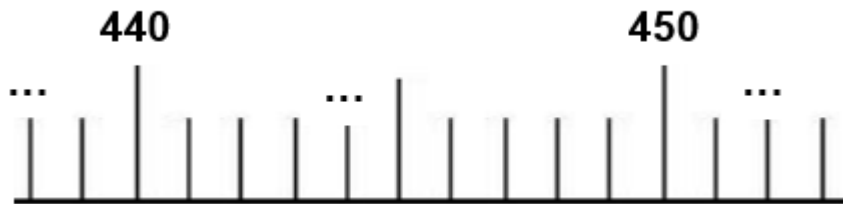
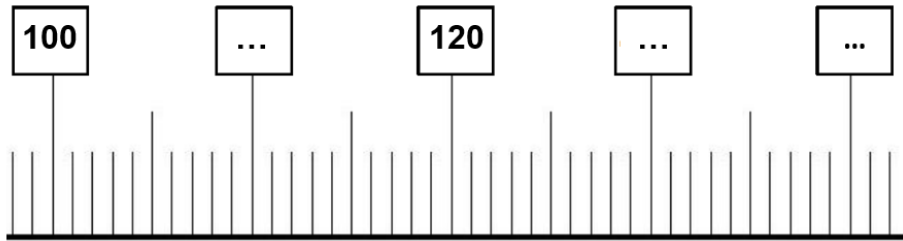


**Exercice :**

Ecris les nombres qui manquent :



**Exercice :**

Complète le tableau comme l'exemple de la 1<sup>ère</sup> ligne

nombre	Nombre suivant	Nombre suivant terminé par 0 (dizaine suivante)
237	238	240
701	...	...
574	...	...
984	...	...

**Exercice :**

Calcule :

$$\begin{array}{r} 222 \\ + 333 \\ \hline \end{array}$$

.....

$$\begin{array}{r} 504 \\ + 437 \\ \hline \end{array}$$

.....

$$\begin{array}{r} 248 \\ + 121 \\ \hline \end{array}$$

.....

$$\begin{array}{r} 908 \\ + 45 \\ \hline \end{array}$$

.....