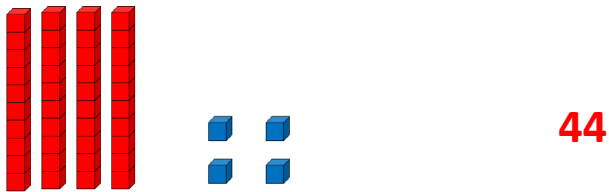

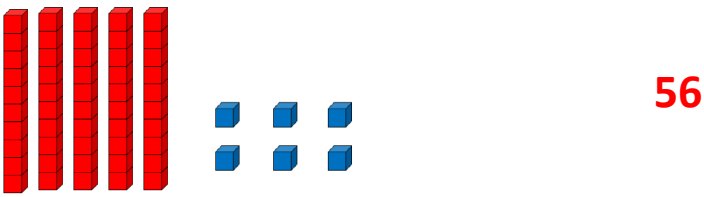
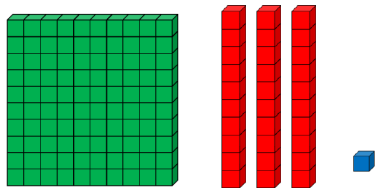


1- Ecris le nombre représenté:



facultatif



131

2 - Effectue les calculs suivants le plus vite possible:

$20 + 6 = 26$

$30 + 4 = 34$

$50 + 9 = 59$

3 - Problème:

Zoé a un paquet de 16 images.
Elle veut mettre 2 images dans chaque enveloppe.
Combien d'enveloppes lui faut-il ?



<p>Je cherche</p> <p>8 enveloppes</p>	<p>Je calcule</p> <p>$2 + 2 + 2 + 2 + 2 + 2 + 2 + 2$ $+ 2 = 18$</p>
<p>Je réponds</p> <p>Il lui faut <u>8</u>.....enveloppes.</p>	