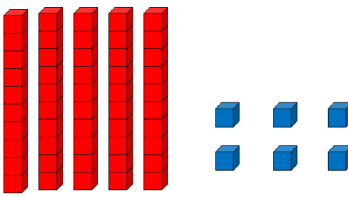

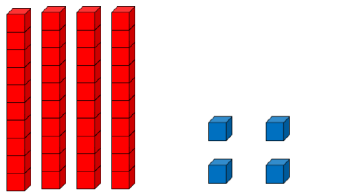


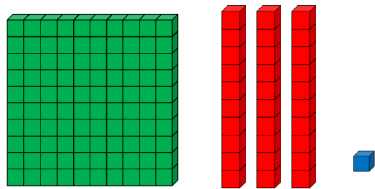
1- Ecris le nombre représenté:


.....


.....


.....

facultatif


.....

2 - Effectue les calculs suivants le plus vite possible:

$20 + 6 = \dots\dots\dots$

$30 + 4 = \dots\dots\dots$

$50 + 9 = \dots\dots\dots$

3 - Problème:

Zoé a un paquet de **16 images**.
 Elle veut mettre **2 images dans chaque enveloppe**.
Combien d'enveloppes lui faut-il ?



Je cherche	Je calcule
Je réponds Il lui fautenveloppes.	

