

1- Ecris en lettres : 16 **seize**

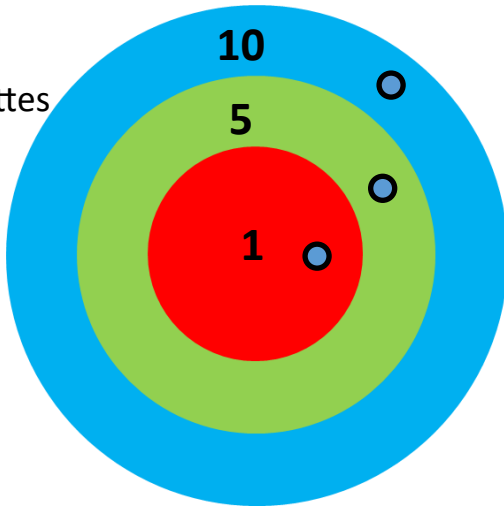
18 **dix-huit**

15 **quinze**

2- Jeu de la cible : Julien a tiré des fléchettes (ronds bleus) dans la cible. Quel est son score?

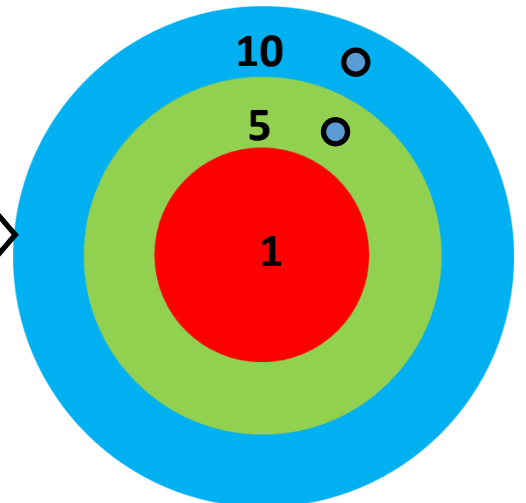
1^{er} tir

3 fléchettes

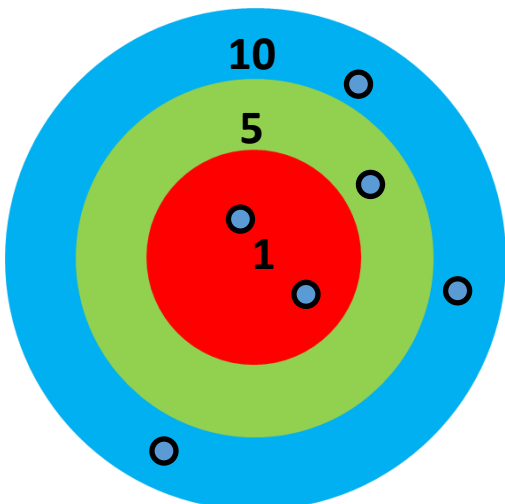


score : **16** points

2^{ème} tir : place 2 fléchettes (ronds) pour réaliser un score de 15.

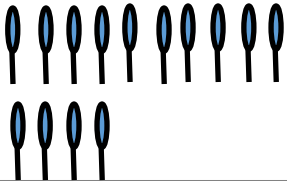



3^{ème} tir : place 6 fléchettes (ronds) pour réaliser un score de 37.



3- Problème :

Zoé a 14 sucettes.
Arthur, lui, en a 4 de plus que Zoé.
Combien de sucettes a Arthur ?

<p>Je cherche</p> 	<p>Je calcule</p> <p>14+4=18</p>
<p>Je réponds</p> <p>Arthur a .18. sucettes.</p> 	

4- Complète le tableau des nombres:

	1	2	3	4	5	6	7	8	9
10	11	12	13	14	15	16	17	18	19
20	21	22	23	24	25	26	27	28	29
30	31	32	33	34	35	36	37	38	39
40	41	42	43	44	45	46	47	48	49
50	51	52	53	54	55	56	57	58	59
60	61	62	63	64	65	66	67	68	69
70	71	72	73	74	75	76	77	78	79
80	81	82	83	84	85	86	87	88	89
90	91	92	93	94	95	96	97	98	99