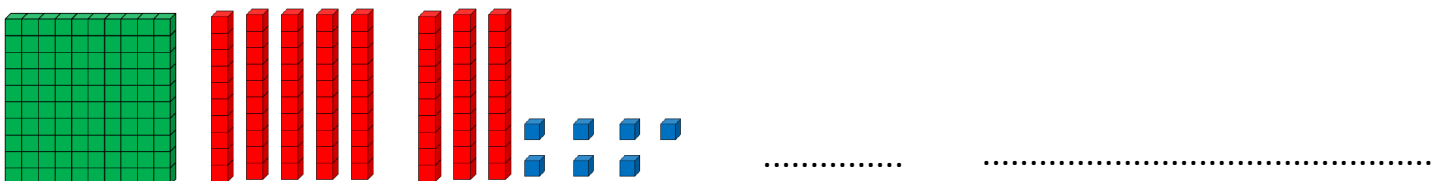
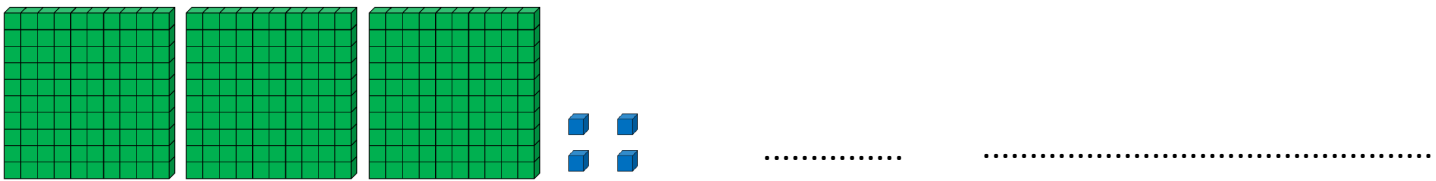
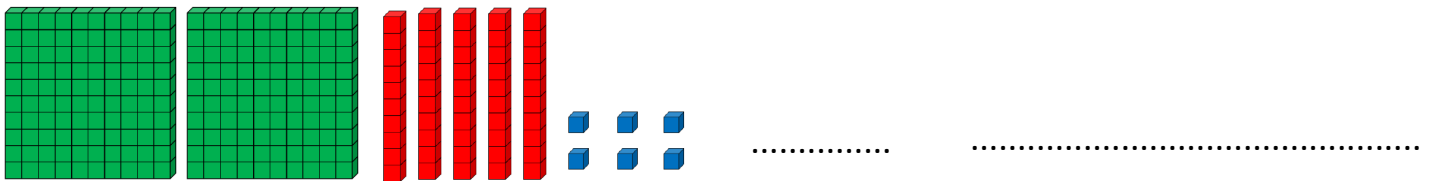


1- Ecris les nombres suivants en chiffres et en lettres:



2- Fais toi interroger sur la carte du 10 et du 60 (leçons 6 et 7 cahier rouge)

3- Effectue les soustractions suivantes (Tu peux utiliser ce tableau des nombres si tu as du mal ):

$126 - 120 = \dots\dots\dots$

$204 - 195 = \dots\dots\dots$

$342 - 337 = \dots\dots\dots$