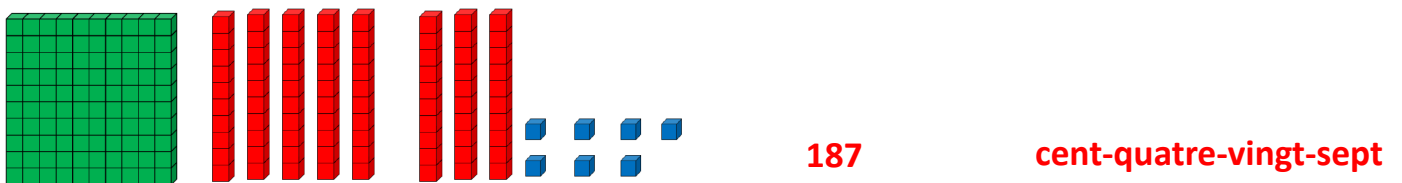




1– Ecris les nombres suivants en chiffres et en lettres:



2– Fais toi interroger sur la carte du 10 et du 60 (leçons 6 et 7 cahier rouge)

3– Effectue les soustractions suivantes (Tu peux utiliser ce tableau des nombres si tu as du mal):

$126 - 120 = 6$

$204 - 195 = 9$

$342 - 337 = 5$