


Mathématiques CP vendredi 20 mars

« Maman achète des livres : un livre de photos pour papa à 23 € et une bande dessinée à 12 € pour Tom. Combien va-t-elle dépenser ? »

Je cherche : tu peux utiliser du matériel (cubes, pâtes, graines...)



Je calcule

$$23 + 12$$

$$20 + 3 + 10 + 2$$


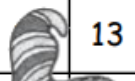





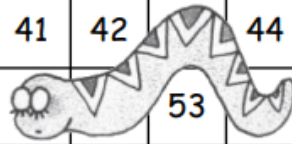



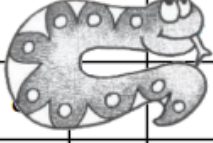
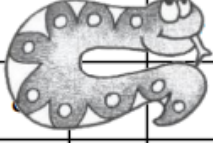
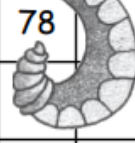

$$30 + 5$$

$$35$$


Je réponds

Elle ...va dépenser 35 €.....

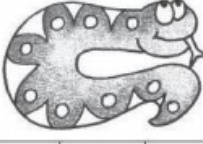







LE CACHE SERPENTS: Ecris les nombres cachés par les serpents:

1	2	3	4	5	6	7		9	10	
11		13	14		16	17				
21				25	26			28	29	
31	32	33	34			36	38	39	40	
41	42			44	45			48		
53					55	56	57	58		
61	62	63	64	65	66	67		69	70	
71						76	77	78	80	
81						86	87		90	
91	92	93	94				98	99	100	

12	
22	23

	27
	37
46	47

15	
----	---

			8						
72	73	74	49	50	24	18	19	20	
82	83	84	59	60				30	
68			75						
	79		85					43	
88	89		95	96	97	51	52		54