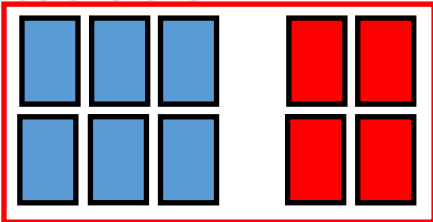



Problèmes lundi 4 mai

Zoé a déjà mis **6 photos** d'Arthur dans une enveloppe.
Elle veut en envoyer **10**.



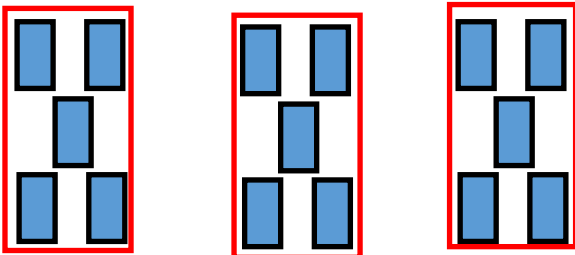
Combien de photos doit-elle encore mettre dans l'enveloppe ?

<p>Je cherche</p> 	<p>Je calcule</p> <p>$6 + 4 = 10$ ou $10 - 6 = 4$</p>
<p>Je réponds</p> <p>Zoé doit mettre <i>4 photos</i>.....</p> 	

Zoé a **3 enveloppes**.
Chaque enveloppe contient **5 photos**.



Combien Zoé a-t-il de photos ?

<p>Je cherche</p> 	<p>Je calcule</p> <p>$5 + 5 + 5 = 15$</p>
<p>Je réponds</p> <p>Zoé <i>15 photos</i>.....</p> 