




Exemple de voies de circulation

Désignation	Schéma
Chaussée avec 1 voie de circulation	
Chaussée avec 2 voies de circulation	
Chaussée avec 3 voies de circulation : 2 voies de circulation 1 voie pour les vélos	
Trouve cet exemple :chaussée avec trois voies de circulation... 2 voies pour les voitures et autres véhicules 1 voie réservée au bus	

Exercice n°01 :

Retrouve les bons numéros



- 1 La route : ensemble regroupant la chaussée et les accotements,
- 3 Les accotements : espace réservé à la circulation des piétons,
- 2 La chaussée : partie de la route normalement utilisée pour la circulation des véhicules.

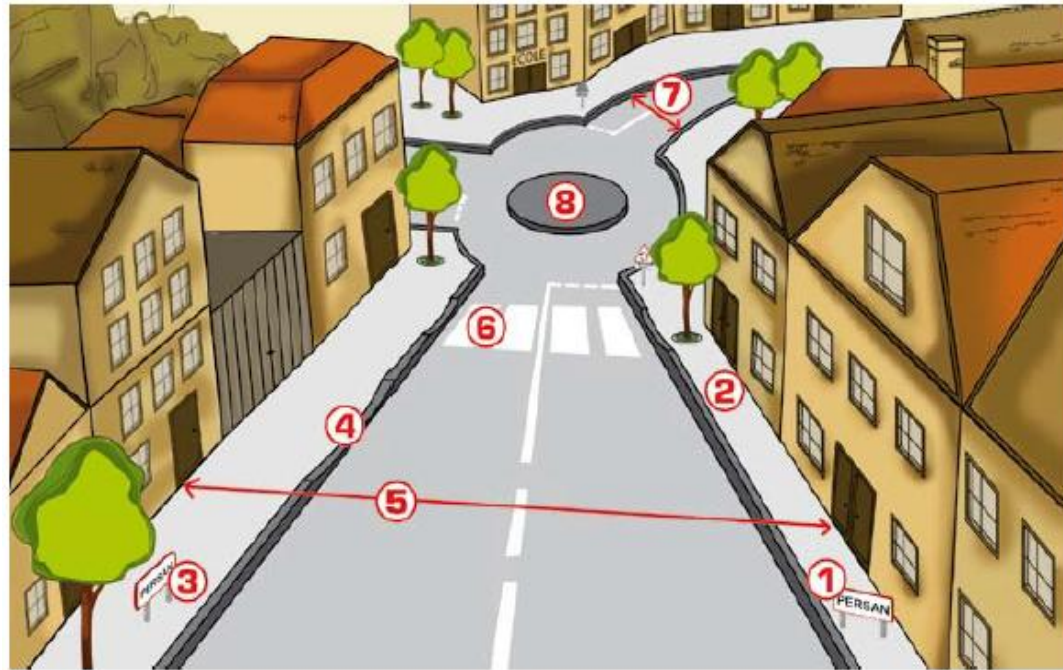


- 1 La rue : ensemble regroupant la chaussée et les trottoirs, n°1 rouge
- 1 Le trottoir : espace réservé à la circulation des piétons, n°1 orange
- 2 La chaussée : partie de la route normalement utilisée pour la circulation des véhicules, n°2 bleu
- 4 La bordure : limite du trottoir, n°4 jaune
- 3 Le caniveau : permet l'évacuation des eaux. n°3 bleu clair

Exercice n°02 :

Retrouve les bons numéros - Lis attentivement le texte:

Pour se rendre à l'école, Marc doit traverser sa ville. Une fois les panneaux «entrée de ville» et «sortie de ville» passés, il emprunte les trottoirs en surveillant les sorties de garages. Dans sa rue, il n'y a pas de passages piétons, en conséquence, il doit traverser en faisant bien attention. Dans la rue, ce sont les voitures qui circulent sur la chaussée. Enfin, après avoir passé le rond-point, Marc arrive enfin à l'école.



Utilise les mots du texte :

- | | |
|-----------------------------|---------------------|
| 01. panneau entrée de ville | 05. rue |
| 02. trottoirs | 06. passage piétons |
| 03. panneau sortie de ville | 07. chaussée |
| 04. sortie de garages | 08. rond-point |

Le passage piétons



Complète le texte avec les mots suivants :

Droite	Gauche	Véhicule	Gauche
Arrête	Courir	Attarder	

Avant de traverser, un passage piétons, je regarde à ...gauche....., à ...droite.....
puis à nouveau àgauche..... pour vérifier qu'il n'y a pas de danger.
Si unvéhicule..... approche, je dois attendre que celui-ci s'.....arrête.....
complètement. Enfin, sur le passage piétons, je traverse calmement et je ne dois
ni.....courir..... ni m'.....attarder.....

La signalisation verticale - Les panneaux

Formes et couleurs	significations
une interdiction.....
une obligation.....
une indication.....
un danger.....
Danger particulier	

Complète le tableau

Observe le tableau et complète le en mettant une croix dans la bonne case.








	Signal d'interdiction	Signal de danger	Signal d'indication	Signal d'obligation	Signification

A retenir :

- Un panneau en forme de triangle annonce un danger.
- Un panneau en forme de cercle indique une ou une
- Un panneau en forme de carré donne une

La signalisation horizontale - Les marquages au sol

Les marquages au sol délimitent les endroits où les différents usagers doivent circuler ou s'arrêter, voici quelques exemples :

Marquage	Signalisation verticale éventuelle	schéma	désignation
«STOP»			Arrêt à l'intersection
«Cédez le passage»			Cédez le passage à l'intersection. Signal de position
«Ligne Continue»			Elle ne doit jamais être franchie
«Ligne discontinue»			Elle peut être franchie pour effectuer par exemple un dépassement
«Ligne mixte»			Elle est composée d'une ligne continue et d'une ligne discontinue qui lui est accolée. On prend en compte la ligne qui est à côté de soi.

Exercice :

Indique ce que tu dois faire



Je suis en vélo et je rencontre ce marquage, je dois :

.....

.....

.....

.....

.....

.....

.....



Je suis à pied et je rencontre ce marquage, je dois :

.....

.....

.....

.....

.....

.....

.....



Ton père rencontre ce marquage, peut-il doubler ?

.....

.....

.....

.....

.....

.....

.....